

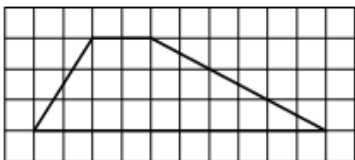
Муниципальное казённое общеобразовательное учреждение
“Ольгинская средняя общеобразовательная школа п. Ольга”
Ольгинского района Приморского края



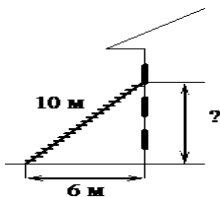
Итоговая контрольная работа по геометрии 8 класс

демоверсия

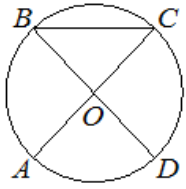
1. Два катета прямоугольного треугольника равны 6 и 13. Найдите площадь этого треугольника.
2. Найди острый угол параллелограмма ABCD, если биссектриса угла A образует со стороной BC угол равный 15° .



3. На клетчатой бумаге с размером клетки 1x1 изображена трапеция. Найдите длину её средней линии.



4. Пожарную лестницу длиной 10м приставили к окну третьего этажа. Нижний конец лестницы отстоит от стены на 6м. На какой высоте расположено окно?



7. В окружности с центром в точке O отрезки AC и BD – диаметры. Угол AOD равен 88° . Найдите угол ACB .