

Итоговая контрольная работа по истории для 5 класса
Вариант 1

Ф.И. _____

Класс _____

Дата _____

Инструкция по выполнению итоговой контрольной работы

Тест содержит 24 заданий и состоит из 3 частей. На его выполнение отводится 40 минут.

Часть I состоит из 15 заданий к каждому заданию предложено 4 варианта ответа, один из которых верный. Выбранный вами верный ответ обведите.

Часть II состоит из 8 заданий на соответствие с кратким ответом, с указанием последовательности цифр, работой с контурной картой.

Часть III состоит из 1 задания с развернутым ответом

За каждый правильный ответ в зависимости от сложности задания дается один или два балла.

Желаем успеха!

Часть 1.

- 1. Когда согласно археологическим находкам, на Земле появились первые люди?**
 - 1) Более 2 млн. лет назад
 - 2) Более 1,5 млн. лет назад
 - 3) Более 1 млн. лет назад
 - 4) Более 3 млн. лет назад
- 2. Из чего древние люди изготавливали первые орудия труда?**
 - 1) Из камня
 - 2) Из бронзы
 - 3) Из меди
 - 4) Из железа
- 3. Из какого занятия людей возникло земледелие?**
 - 1) Из скотоводства
 - 2) Из бортничества
 - 3) Из собирательства
 - 4) Из охоты
- 4. Какая самая большая река Северо-Восточной Африки?**
 - 1) Тигр
 - 2) Евфрат
 - 3) Нил
 - 4) Ганг
- 5. Как назывались царские советники, военачальники в Египте?**
 - 1) Вельможи
 - 2) Придворные
 - 3) Писцы
 - 4) Жрецы
- 6. Какая историческая область была расположена между двумя большими реками – Тигром и Евфратом?**
 - 1) Двуречье

- 2) Египет
- 3) Финикия
- 4) Ассирия

7. Что означает слово «библия» в переводе с греческого языка

- 1) Слово
- 2) Книга
- 3) Заповедь
- 4) Учение

8. Как в Индии называются группы людей, которые обладают определенными правами и обязанностями, передающимися по наследству?

- 1) Группа
- 2) Каста
- 3) Сообщество
- 4) Класс

9. Какой мудрец заслужил особое почитание в Китае?

- 1) Будда
- 2) Мухаммед
- 3) Конфуций
- 4) Иисус

10. Какой город был столицей Троянского царства?

- 1) Троя
- 2) Микены
- 3) Афины
- 4) Кносс

11. Кто автор поэмы «Илиада»?

- 1) Софокл
- 2) Патрокол
- 3) Перикл
- 4) Гомер

12. Чем были недовольны простые земледельцы в Атике в VII в. до н. э.?

- 1) Отсутствием земли и власти
- 2) Высокими налогами
- 3) Низкими урожаями
- 4) Службой в армии

13. В каком году произошла знаменитая Марафонская битва?

- 1) 479 г. до н.э.
- 2) 490 г. до н.э.
- 3) 480 г. до н.э.
- 4) 469 г. до н.э.

14. Какой персидский царь стал противником Александра Македонского?

- 1) Кир
- 2) Дарий I

- 3) Дарий 2
- 4) Дарий 3

15. Государственный совет, высший орган управления в Риме

- 1) Парламент
- 2) Сенат
- 3) Дума
- 4) Сейм

Часть 2

1. Выберите верное утверждение:

- 1) Из-за присутствия в воде частиц ила и горных пород вода в Ниле приобретала прозрачно-голубой цвет.
- 2) Царь Южного Египта носил на голове красную корону, а царь Северного Египта носил белую корону.
- 3) Новой столицей египетского государства стал город Фивы.
- 4) За 3000 лет до н.э. царь Южного Египта объединил все территории, подчинив себе Северный Египет.

2. Установите соответствие между Богами Древней Греции и сферой их деятельности

СФЕРФА ДЕЯТЕЛЬНОСТИ	ГРЕЧЕСКИЕ БОГИ
1. Богиня красоты и любви	А) Зевс
2. Богиня – воительница	Б) Аид
3. Бог грома и молний	В) Афина
4. Бог подземного царства	Г) Афродита
5. Бог морей и океанов	

А	Б	В	Г

3. Объясните, что может быть общего между словами: Гранник, Исс, Дарий Третий, Гавгамеллы

4. Ниже приведен список терминов все они за исключением одного, относятся к событиям (явлениям) истории Древнего Рима.

- 1) ликторы, 2) патриции, 3) Сенат, 4) консулы, 5) Форум, 6) лабиринт

5. Заполните пустые ячейки таблицы, используя представленные в приведенном ниже списке данные. Для каждой ячейки, обозначенной буквами, выберите номер нужного элемента.

События	Дата	Участник(-и)
Марафонская битва	_____ (А)	Дарий Первый,

		Мильтиад
Поход в Азию	334 – 325 г. до н.э.	(Б)
(В)	218 - 201 гг. до н.э.	Ганнибал, Сципион Африканский
Крупнейшее восстание рабов в Италии	(Г)	Спартак

Пропущенные элементы:

- 1) 490 года до н.э.
- 2) Александр Македонский
- 3) Вторая война Рима с Карфагеном
- 4) Гай Юлий Цезарь
- 5) 74 – 71 г. до н.э.
- 6) 753 год до н.э.
- 7) Троянская война



А	Б	В	Г

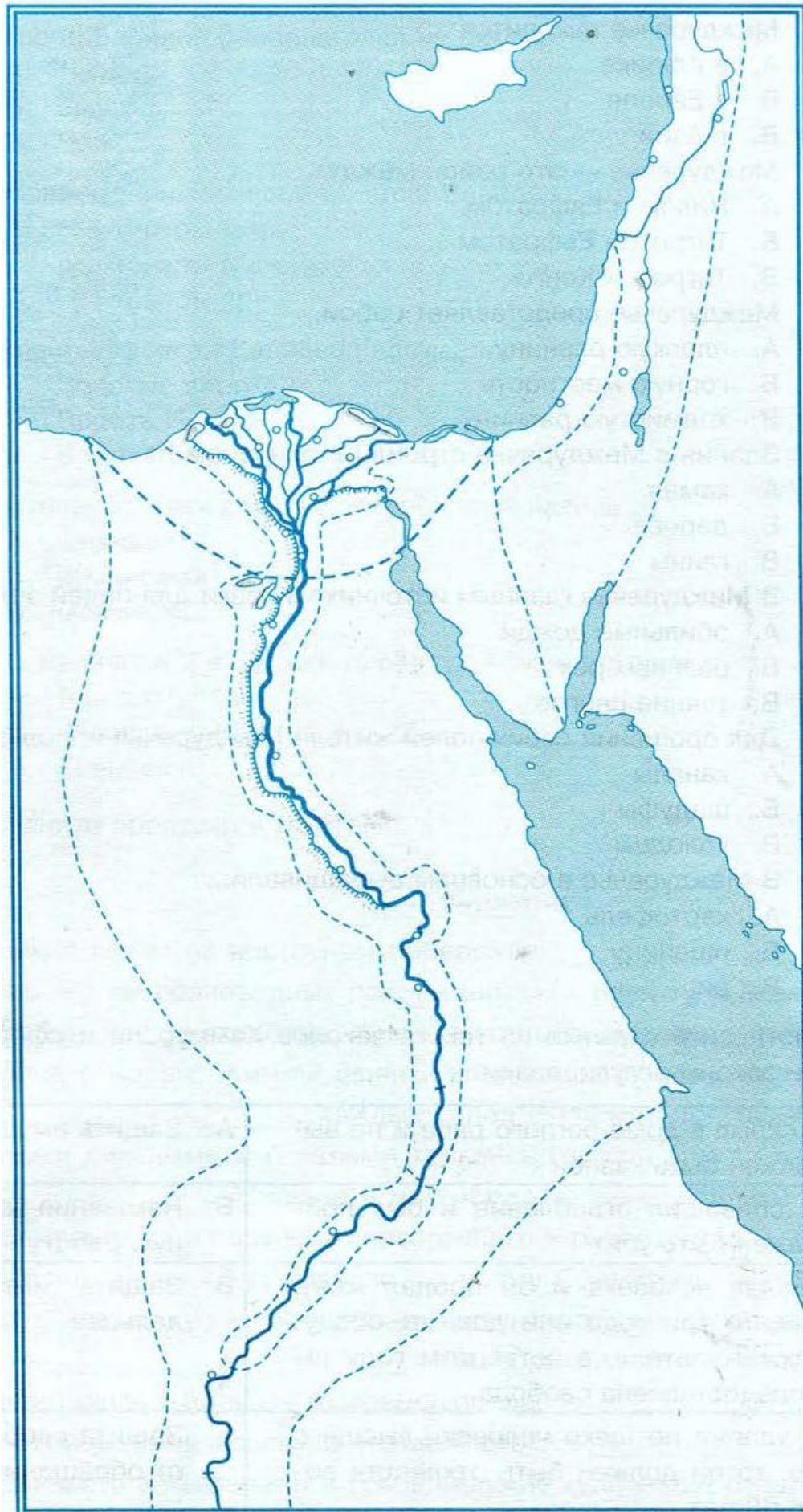
6. **Найдите лишнее имя в логическом ряду, объясните свой выбор:**

Амулий, Нумитор, Рем, Ромул, Марс, Пирр, Рея Сильвия

7. **Какой из предложенных элементов относится к истории Древнего Рима?**

Укажи цифру и название выбранного элемента.





8. Работа контурной картой

Древний Египет

1. Напишите на карте название: *Южный и Северный Египет*
2. Обозначьте красным цветом границу объединённого Египта
3. Обозначьте зеленым цветом основные районы земледелия
4. Обозначьте красной точкой столицу Египта и напишите ее названия
5. Напишите на карте название морей
6. Напишите название реки, которая протекает по территории Египта, синим цветом выделите дельту.

